

全国计算机技术与软件专业技术资格（水平）考试

2007 年下半年 信息处理技术员 上午试卷

（考试时间 9 : 00~11 : 30 共 150 分钟）

请按下述要求正确填写答题卡

1. 在答题卡的指定位置上正确写入你的姓名和准考证号，并用正规 2B 铅笔在你写入的准考证号下填涂准考证号。
2. 本试卷的试题中共有 75 个空格，需要全部解答，每个空格 1 分，满分 75 分。
3. 每个空格对应一个序号，有 A、B、C、D 四个选项，请选择一个最恰当的选项作为解答，在答题卡相应序号下填涂该选项。
4. 解答前务必阅读例题和答题卡上的例题填涂样式及填涂注意事项。解答时用正规 2B 铅笔正确填涂选项，如需修改，请用橡皮擦干净，否则会导致不能正确评分。

例题

● 2007 年下半年全国计算机技术与软件专业技术资格（水平）考试日期是（88）月（89）日。

（88） A. 12 B. 11 C. 10 D. 9

（89） A. 6 B. 5 C. 4 D. 3

因为考试日期是“11 月 3 日”，故（88）选 B，（89）选 D，应在答题卡序号 88 下对 B 填涂，在序号 89 下对 D 填涂（参看答题卡）。

- 计算机硬件能直接识别和执行的语言是(1)。
(1) A. 高级语言 B. BASIC 语言 C. 汇编语言 D. 机器语言
- 在计算机硬件系统中，核心的部件是(2)。
(2) A. 输入设备 B. 中央处理器 C. 存储设备 D. 输出设备
- 衡量计算机硬盘技术的指标有很多，但不包括(3)。
(3) A. 主轴转速 B. 平均寻道时间 C. 数据传输速率 D. 地址总线宽度
- 以下关于组装微型计算机的叙述，不正确的是(4)。
(4) A. 中央处理器应安装在电脑主板上的Socket插座上
 B. 显示卡应安装在电脑主板上的扩展槽中
 C. 独立的声卡应安装在AGP插槽中
 D. 硬盘数据线应连接在电脑主板的IDE/SCIS接口上
- 下列存储设备中，存储速度最快的是(5)。
(5) A. 内存 B. 硬盘 C. 光盘 D. 软盘
- 下列选项中，既是输入设备又是输出设备的是(6)。
(6) A. 扫描仪 B. 显卡 C. 投影仪 D. 软盘
- 显示器分辨率具有(7)像素时，其清晰度较高，显示的效果较好。
(7) A. 600x800 B. 1024x768 C. 1280x1024 D. 1600x1200
- 计算机中数据输入输出的控制方式有多种，“中断”方式的优点不包括(8)。
(8) A. I/O 与 CPU 并行处理 B. 并行处理多种 I/O
 C. 实时响应突发事件 D. 批量传送数据
- 下列关于静态存储器 (SRAM) 和动态存储器 (DRAM) 的叙述中，不正确的是(9)。
(9) A. DRAM 比 SRAM 速度快、价格高
 B. DRAM 就是通常说的内存
 C. DRAM 比 SRAM 集成度高、功耗低
 D. SRAM 只要不断电，数据就能永久保存
- 动态图像压缩的标准是(10)。
(10) A. JPEG B. MHEG C. MPEG D. MPC
- URL: ftp://my:abc@214.13.2.45 中，ftp 是(11)。
(11) A. 超文本链接 B. 超文本标记语言
 C. 文件传输协议 D. 超文本传输协议

● 主板（也称母板或系统板）是计算机硬件系统集中管理的核心载体，几乎集中了全部系统功能，是计算机中的重要部件之一。下图所示的微机主板上，①处是（12），②处是（13）。



- (12) A. CPU 插槽 B. 内存插槽 C. PCI 插槽 D. IDE 插槽
(13) A. CPU 插槽 B. 内存插槽 C. PCI 插槽 D. IDE 插槽

● 下列选项中，不属于搜索引擎的是（14）。

- (14) A. <http://www.google.com>
B. <http://www.ciif-expo.com>
C. <http://www.baidu.com>
D. <http://www.sogou.com>

● 计算机网络有多种分类方法，下列叙述中不正确的是（15）。

- (15) A. 按地理范围可分为局域网、广域网、城域网
B. 按通信介质可分为有线网络和无线网络
C. 按通信子网的方式可分为报文交换网和分组交换网等
D. 按网络的拓扑结构可分为星形网、环形网和圆形网等

● 局域网交换机的某一端口工作于半双工方式时带宽为 100Mbps，那么它工作于全双工方式时带宽为（16）。

- (16) A. 50 Mbps B. 100 Mbps C. 200 Mbps D. 400 Mbps

● 下列 IP 地址属于 C 类地址的是（17）。

- (17) A. 192.168.3.56 B. 10.0.0.2 C. 128.0.0.8 D. 255.255.0.0

● 校园网与城域网互连，应该选用的设备是（18）。

- (18) A. 交换机 B. 网桥 C. 路由器 D. 集线器

- 用户的电子邮件信箱是 (19)。
(19) A. 用户计算机内存中的一块区域 B. 邮件服务器硬盘上的一块区域
 C. 邮件服务器内存中的一块区域 D. 用户计算机硬盘上的一块区域

- 如果电子邮件发送后，接收者的电脑没有开机，那么电子邮件将 (20)。
(20) A. 返回到发信人的邮箱里 B. 保存在 ISP 的主机上
 C. 保存在 POP3 服务器上 D. 保存在 SMTP 服务器上

- 由国家机关下达任务开发的软件，若在项目任务书或者合同中对软件著作权未作明确规定的，其软件著作权由 (21) 享有。
(21) A. 接受任务的法人或其他组织 B. 下达任务的国家机关
 C. 相关的国家机关 D. 双方共同

- 信息产业部最近制定并发布的手机充电器统一标准，在全国范围内是 (22)。
(22) A. 强制性标准 B. 推荐性标准 C. 指导性标准 D. 参考性标准

- 下列关于计算机病毒的叙述中，正确的是 (23)。
(23) A. 计算机病毒不能够实现自身复制 B. 计算机病毒只会破坏系统软件
 C. 计算机病毒不会通过光盘传播 D. 宏病毒会影响对文档的操作

- 下列选项中不属于计算机病毒特征的是 (24)。
(24) A. 针对性 B. 稳定性 C. 衍生性 D. 传染性

- 甲、乙、丙、丁、戊五支排球队进行单循环比赛（每两队间都只进行一场比赛），比赛结果为：丁队只输了一场，丙队比丁队多赢一场，戊队比丁队多输一场，甲队比戊队多输两场，那么乙队的名次是 (25)。
(25) A. 第一名 B. 第三名 C. 第四名 D. 第五名

- 1, 2, ..., 5 五个数中，任取两个数都可以算出平均值，其中有些平均值是相等的。那么，不同的平均值共有 (26) 个。
(26) A. 4 B. 7 C. 8 D. 30

- 某单位对收集的 100 个数据已算出其算术平均值为 E，方差为 D。如果这 100 个数据中每个数据都增加 1 倍，则算术平均值为 (27)，方差为 (28)。
(27) A. E B. 2E C. 100E D. 200E
(28) A. D B. 2D C. 4D D. 100D

- 下列参数中，(29) 是音频信息数字化的参数。
(29) A. 主频 B. 采样频率 C. 压缩比 D. 分辨率

- 扩展名默认为 wav 的文件属于 (30) 文件。
(30) A. 声音 B. 压缩 C. 图像 D. 文本

- 下列关于信息的叙述中，不正确的是(31)。
(31) A. 信息是可以处理的 B. 信息的价值不会改变
 C. 信息可以在不同形态间转化 D. 信息具有时效性

- 计算机在存储波形声音之前，必须进行(32)。
(32) A. 压缩处理 B. 解压缩处理 C. 模拟化处理 D. 数字化处理

- 下列不属于信息加工的是(33)。
(33) A. 选择 B. 比较 C. 统计 D. 采集

- 根据文件的扩展名判断，下列文件中属于静态网页文件的是(34)。
(34) A. a.txt B. a.mp3 C. a.bmp D. a.htm

- 下列关于有损压缩的说法中正确的是(35)。
(35) A. 压缩过程可逆，相对无损压缩其压缩比较高
 B. 压缩过程可逆，相对无损压缩其压缩比较低
 C. 压缩过程不可逆，相对无损压缩其压缩比较高
 D. 压缩过程不可逆，相对无损压缩其压缩比较低

- 在 Windows 系统中，下列关于“任务管理器”的叙述中错误的是(36)。
(36) A. 在“任务管理器”中可以实现应用程序的切换
 B. 在“任务管理器”中可以查看 CPU 和内存的使用情况
 C. 在“任务管理器”中可以结束某个应用程序的运行
 D. 在“任务管理器”中可以查看系统的安全日志

- 通常情况下，通过 Windows 任务栏不能直接完成的操作是(37)。
(37) A. 切换已打开的窗口 B. 显示桌面
 C. 切换输入法 D. 创建文件夹

- 下列关于快捷方式的叙述中，正确的是(38)。
(38) A. 快捷方式是文件夹
 B. 快捷方式是文本文件
 C. 快捷方式是对某种系统资源的链接
 D. 快捷方式是可执行文件

- 在 Windows 系统中，关于资源管理器工具栏上的“后退”按钮的叙述，正确的是(39)。
(39) A. 点击“后退”按钮返回“我的电脑”
 B. 点击“后退”按钮返回磁盘
 C. 点击“后退”按钮返回桌面
 D. 点击“后退”按钮返回上一次访问的资源

● 在 Windows 系统的资源管理器中，文件和文件夹可以采用多种形式显示，但不能以 (40) 形式显示。

- (40) A. 制表 B. 大图标 C. 列表 D. 详细资料

● 在 Windows XP 系统中，不能在文件名中使用的字符是 “ (41) ”。

- (41) A. , B. # C. / D. +

● 下面有关 Windows 系统下应用程序窗口的叙述中，正确的一项是 (42)。

- (42) A. 屏幕上只能有一个应用程序窗口
B. 屏幕上能有多个应用程序窗口，但只有一个是活动窗口
C. 屏幕上能有多个应用程序窗口，也可以都是活动窗口
D. 应用程序的用户界面不以窗口形式出现

● 为查看 Windows 系统当前正在运行哪些应用程序或进程，可用 (43) 组合键实现。

- (43) A. Ctrl+Shift+Delete B. Ctrl+Shift+Enter
C. Ctrl+Alt+Delete D. Ctrl+Shift+Alt

● 在 Word 编辑状态下，有些英文单词或汉字下面会自动加上红色或绿色的波浪型细下划线。以下叙述中，“波浪型细下划线 (44) ”是错误的。

- (44) A. 提醒用户此处可能有拼写或语法错误
B. 为红色表示可能是拼写问题，为绿色可能是语法问题
C. 是文档内容的一部分，打印文档时会被打印出来
D. 不属于文档内容，打印文档时不会被打印出来

● 使用 Word 中“绘图”工具栏上的各个工具按钮可以绘制多种图形，椭圆就是其中的一种。如果想绘制一个标准的正圆，应该在点击“椭圆”按钮后再按住 (45) 键进行绘制。

- (45) A. Shift B. Ctrl C. Alt D. Tab

● Word 中“工具”菜单下的“字数统计”选项的功能不能统计 (46)。

- (46) A. 页数 B. 段落数 C. 行数 D. 分栏数

● Word 中“编辑”菜单下的“定位”命令的功能不能够定位 (47)。

- (47) A. 脚注 B. 尾注 C. 页 D. 指定格式

● 打开 DOC 文档“48.doc”，有如下表格，欲在空白单元格中计算出整行其他四个单元格的数值之和，应在空白单元格中插入公式 (48)。

17373	2874	6345	52478	
-------	------	------	-------	--


- (48) A. =SUM(ABOVE) B. =SUM(LEFT)
C. =SUM(RIGHT) D. =SUM(A1:D1)

● 下列快捷功能按钮中，可以在画好的图形内填充颜色的是 (49)。

- (49) A.  B.  C.  D. 

● 某文档要用规定的纸张大小,但在打印预览中发现最后一页只有一行,若要把这一行提到上一页,最好的办法是 (50)。

- (50) A. 在“页面设置”中改变纸张大小
B. 在“打印预览”中增大页边距
C. 在“格式”菜单下的“段落”选项中使用孤行控制
D. 在“页面设置”中把页面方向改为横向

● Excel 中,快捷功能按钮  的功能是 (51)。

- (51) A. 降序排列 B. 升序排列
C. 改为大写字母 D. 改为小写字母

● 在 Excel 中,“Sheet1!\$A\$1:\$E\$1,Sheet1!\$B\$3:\$D\$3,Sheet1!\$C\$5”共选定了 (52) 个单元格。

- (52) A. 9 B. 7 C. 8 D. 6

● 用 Excel 打开文件“53.xls”,其中的数据如下图所示,并做如下操作:

	A	B	C
1	A1	B1	C1
2	A2	B2	C2
3	A3	B3	C3

- 选中 B2 单元格后
 - 点击“插入→行”命令
 - 点击“插入→列”命令
- 则显示的结果是 (53)。

(53) A.

	A	B	C	D
1	A1	B1		C1
2				
3	A2	B2		C2
4	A3	B3		C3

B.

	A	B	C	D
1		A1	B1	C1
2				
3		A2	B2	C2
4		A3	B3	C3

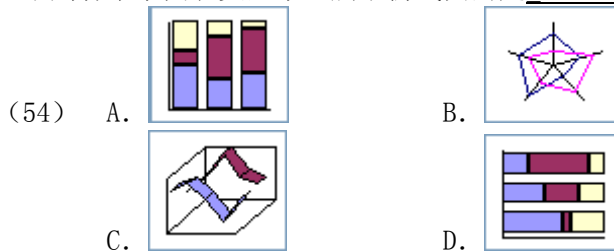
C.

	A	B	C	D
1	A1		B1	C1
2	A2		B2	C2
3				
4	A3		B3	C3

D.

	A	B	C	D
1	A1		B1	C1
2				
3	A2		B2	C2
4	A3		B3	C3

● 下列各个子图类型中，属于折线图的是 (54)。



● 在 Excel 中，B2 单元格的内容为 123，A1 单元格中的内容为“=B2”，当用 Delete 键删除 B2 单元格的内容后，则 A1 单元格显示 (55)。

- (55) A. 一排与单元格等宽的“#” B. #NAME?
C. #REF! D. 0

● 在 Excel “单元格格式”对话框的“对齐”选项卡中，“垂直对齐”选项中不包括 (56)。

- (56) A. 居中 B. 靠下
C. 靠左 D. 两端对齐

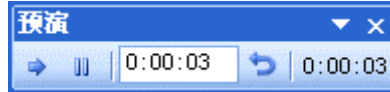
● 在 Excel 中，函数 Min (A1: A10) 的功能是 (57)。

- (57) A. 求出 A1~A10 单元格数组中的最小值
B. 求出 A1~A10 单元格数组中的最大值
C. 求出 A1~A10 单元格数组中的平均值
D. 求出 A1~A10 单元格的个数

● 在 PowerPoint 中，为在自选图形中添加文本，应先选定该图形，如果 (58) 则表示可以在图形上编辑文本了。

- (58) A. PowerPoint 程序给出语音提示 B. 图形在闪烁
C. 图形外框变成虚线 D. 图形中出现一个闪烁的竖线

- 在 PowerPoint 中放映幻灯片时，如果在屏幕顶端出现了下图所示的窗口，则说



明当前正在采用 (59) 功能。

- (59) A. 录制旁白 B. 幻灯片放映
C. 排练计时 D. 幻灯片切换

- PowerPoint 内置的动画效果中，不包括 (60)。

- (60) A. 百叶窗 B. 溶解 C. 蛇形排列 D. 渐变

- 在 PowerPoint 中点击快捷功能按钮 (61) 可以新建一个演示文稿。

- (61) A.  B.  C.  D. 

- 用 PowerPoint 打开一个具有十张幻灯片的演示文稿，在“幻灯片浏览”视图下，将第 6 张幻灯片拖拽到第 4 张与第 5 张之间，则 (62)。

- (62) A. 第 4 张幻灯片被第 6 张幻灯片覆盖
B. 第 5 张幻灯片被第 6 张幻灯片覆盖
C. 第 6 张幻灯片被复制到第 4 张幻灯片和第 5 张幻灯片之间
D. 第 5 张幻灯片与第 6 张幻灯片互相交换位置

- 在 Access 2000 表中输入数据时，每输完一个字段值，可以按 (63) 键转至下一个字段。

- (63) A. Tab B. Alt C. Esc D. End

- 在 Access 2000 中，在数据表中删除一条记录后，被删除的记录 (64)。

- (64) A. 可以恢复到原来位置
B. 能恢复，但将被恢复为最后一条记录
C. 能恢复，但将被恢复为第一条记录
D. 不能恢复

- 假设在 Access 中已经建立了“学生”表，表中包括“学号”、“姓名”、“性别”、“班级”等字段，如果要统计出每个班级的人数，那么在查询设计视图的“班级”的“总计”行和“学号”的“总计”行中应分别选择 (65)。

- (65) A. Group By 和 Count B. Group By 和 Sum
C. Count 和 Group By D. Sum 和 Group By

- 用计算机处理信息时，常对许多信息采用适当的编码。例如职工编码、商品编码、性别编码、文化程度编码等。编码有很多好处，但不包括 (66)。

- (66) A. 节省存储量 B. 便于操作员输入
C. 便于计算机处理与检索 D. 便于用户识别

● 某工厂二月份的产值比一月份的产值多 $1/10$ ，三月份的产值比二月份的产值少 $1/10$ ，那么一月份的产值比三月份的产值(67)。

- (67) A. 少 $1/100$ B. 多 $1/99$ C. 多 $1/100$ D. 少 $1/99$

● 某村领导要求信息处理技术员估计该村一池塘中的鱼的大致数量。该技术员想出了一个办法：先从池塘中捕出 30 条鱼，在每条鱼身上做一记号后，又放回池塘。几天后，再从该池塘中捕出 40 条鱼，发现其中有 2 条是有记号的。因此，他估计该池塘鱼的数量大致为(68)条。（假设这几天内鱼的数量没有变化）

- (68) A. 300 B. 400 C. 600 D. 1200

● 信息处理技术员考生信息库中，具有“准考证号”、“姓名”、“笔试成绩”与“机考成绩”等字段。按“笔试成绩 >0 and 机考成绩 >0 ”查询，有 r_1 人；按“笔试成绩 >0 or 机考成绩 >0 ”查询，有 r_2 人，则必然有关系(69)。

- (69) A. $r_1 > r_2$ B. $r_1 \geq r_2$ C. $r_1 < r_2$ D. $r_1 \leq r_2$

● 某公司有三个部门，上半年实际完成销售额分别为 560 万元、529 万元、675 万元，分别超额完成计划的 12%、15%、25%，则该公司上半年超额完成计划(70)。

- (70) A. 17.3% B. 17.6% C. 17.9% D. 18.2%

● (71) is an output device displaying the result on paper.

- (71) A. Printer B. Mouse C. Display D. Disk

● Each Web (72) has its own unique address known as a URL(Uniform Resource Locator).

- (72) A. server B. point C. computer D. site

● (73) are essential for the protection of data.

- (73) A. Memory B. Backups C. Files D. Blocks

● It is possible to have more than one (74) open in Word at the same time.

- (74) A. process B. text C. document D. block

● A group of related fields is called a (75).

- (75) A. data B. file C. record D. database

信息处理技术员推荐

信息处理技术员考试政策

考试时间：<http://www.csairk.com/pxjd/200910121714211235.htm>

考试大纲：<http://www.csairk.com/ksdg/201006171615111082.htm>

信息处理技术员考试辅导

信息处理技术员在线辅导招生

查看详情：<http://www.csairk.com/ruankao/kspj.htm>

信息处理技术员冲刺辅导招生

查看详情：<http://www.csairk.com/ruankao/kscj.htm>

信息处理技术员考试视频推荐

视频名称	价格	内容
信息处理技术员培训视频教程	¥185	1727 分钟
查看详情： http://v.educity.cn/chapters.asp?csid=53		
信息处理技术员考试精讲视频教程	¥128	913 分钟
查看详情： http://v.educity.cn/chapters.asp?csid=52		
信息处理技术员考试真题解析视频	¥168	1517 分钟
查看详情： http://v.educity.cn/chapters.asp?csid=51		

信息处理技术员考试书籍推荐

书籍名称	价格
信息处理技术员教程	¥43
查看详情： http://www.csairk.com/book/viewbook.asp?id=193	
信息处理技术员考试试题分类精解	¥39
查看详情： http://www.csairk.com/book/viewbook.asp?id=188	
信息处理技术员考试考点分析与例题精解	¥40
查看详情： http://www.csairk.com/book/viewbook.asp?id=120	